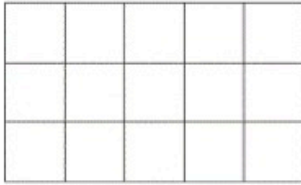


Mesures d'aires



Un carreau mesure 1 cm de côté. Un carreau a pour aire 1 cm².

Ce rectangle mesure 5 cm de longueur et 3 cm de largeur.

Pour calculer l'aire de ce rectangle, on multiplie la longueur par la largeur.

Aire du rectangle : $L \times l$

$$5 \times 3 = 15 \text{ cm}^2.$$

Indique l'aire des figures suivantes, en laissant apparaître tes calculs.


1)



Calculs : ... $6 \times 2 = 12$

Aire : ... 12 cm².


2)



Calculs : ... $3 \times 3 = 9$

Aire : ... 9 cm².

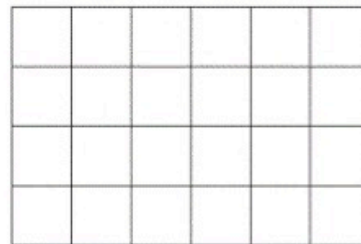
3)



Calculs : ... $5 \times 5 = 25$

Aire : ... 25 cm².

4)



Calculs : ... $6 \times 4 = 24$

Aire : ... 24 cm².