

Les quadrilatères

Compétences

Évaluation

Je connais les propriétés de certains quadrilatères : carré, rectangle, losange, parallélogramme et trapèze.

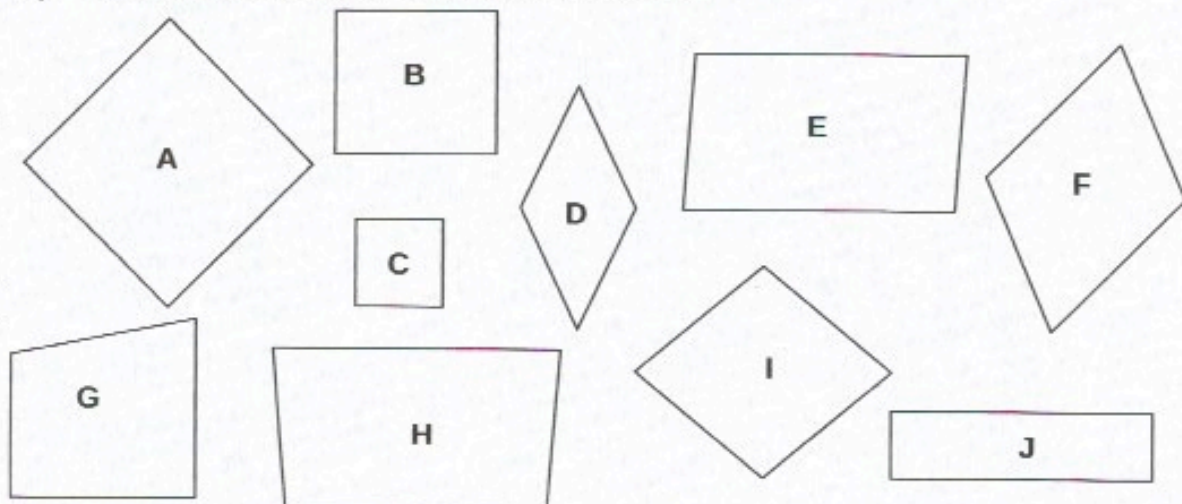
Je sais utiliser mes instruments pour tracer un carré.

Je sais utiliser mes instruments pour tracer un rectangle.

Je sais utiliser mes instruments pour tracer un losange.

1 Classe ces figures dans la bonne colonne.

Attn ! / Use - des - écoles . fr



carrés	rectangles	losanges	parallélogrammes	trapèzes
A - C	B - J	D - I	E - F	G - H

2 Qui suis-je ?

① Mes côtés sont parallèles et égaux deux à deux. Je n'ai pas d'angle droit.

Je suis un parallélogramme.

② Mes 4 côtés sont égaux, mes diagonales se coupent en formant des angles droits. J'ai 4 angles droits.

Je suis un carré.

③ Deux de mes côtés sont parallèles.


Je suis un trapèze.

Nom :

Date:

3 Trace les figures géométriques demandées.

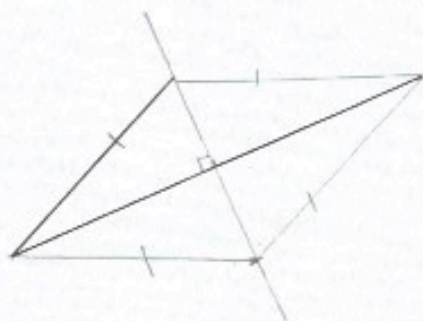
➤ Trace un rectangle de 4 cm de largeur et de 7 cm de longueur.



➤ Trace un carré de 6 cm de côté.



➤ Utilise le côté et la diagonale donnés pour tracer un losange.



Nom :

Date: