

Lundi 4 mai

Date en anglais: *Monday may 4th*

Date en allemand: *Montag den 4 mai*

## Jogging d'écriture

Ecris une publicité pour vendre un stylo spécial.

## Mesures

Conversions:

34 cl = .....*0,034*..... dal

343 dal = .....*3,43*..... hl

56,78 l = .....*5678*..... cl

30,3 dl = .....*0,0303*..... hl

## Vocabulaire

Trouve l'homonyme qui convient:

J'ai perdu mes ...*dents*..... de lait.

Je mets mes cahiers ...*dans*..... mon cartable

## Anglais

Traduction:

Il fait froid: .....*It's cold*.....

Décris moi cette personne en 6 phrases comme dans la leçon:

Han Ling

*It's a girl.*


*Her name is Han Ling.*

*She likes french fries.*

*She doesn't like cucumber.*

*She likes tennis.*

*She has got a bird.*

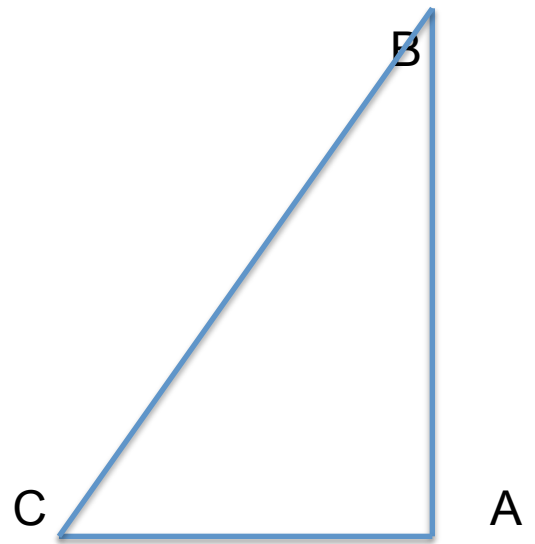


Géométrie

Trace un triangle rectangle en A

AB = 7 cm

AC = 5 cm



Enigme

Conseil: faites des essais et soyez logique

**ENIGME MATHÉMATIQUE**

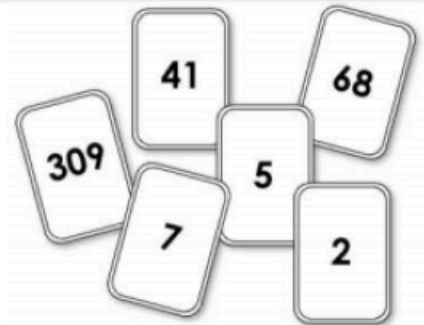


Force 2

Les nombres en cartes

Six nombres sont écrits sur des cartes (dessinées ci-contre).  
Quel est le plus petit nombre que l'on peut former en posant  
toutes ces cartes côte à côte ?

- A) 2574168309
- B) 1023456789
- C) 3097568241
- D) 2309415687
- E) 2309415678



Correction:

C'est la réponse D

2309415687