

Mardi 26 mai

Date en anglais: *Tuesday may 26th*

Date en allemand: *Dienstag den 26 mai*

Dictée

Dictée de 20 mots invariables.

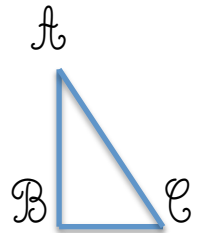
Géométrie

Trace un cercle C de diamètre 10 cm et de centre P , puis trace un rayon FP et une corde AP .

Mesures

Calcule l'aire d'un triangle ABC rectangle en B .
 $AB = 5$ cm et $BC = 3$ cm

Aire du triangle: $(3 \times 5)/2 = 7,5$ cm²



Anglais

Traduction:

Il fait froid: *It's cold.*

Describe moi cette personne en 6 phrases comme dans la leçon:

Co have got

Adrien

It's a boy.



His name is Adrien.

He likes burgers.

He doesn't like lettuce.

He has got a pig.


He likes cycling.



Enigme

Conseil: faites des essais et soyez logique

ENIGME MATHÉMATIQUE

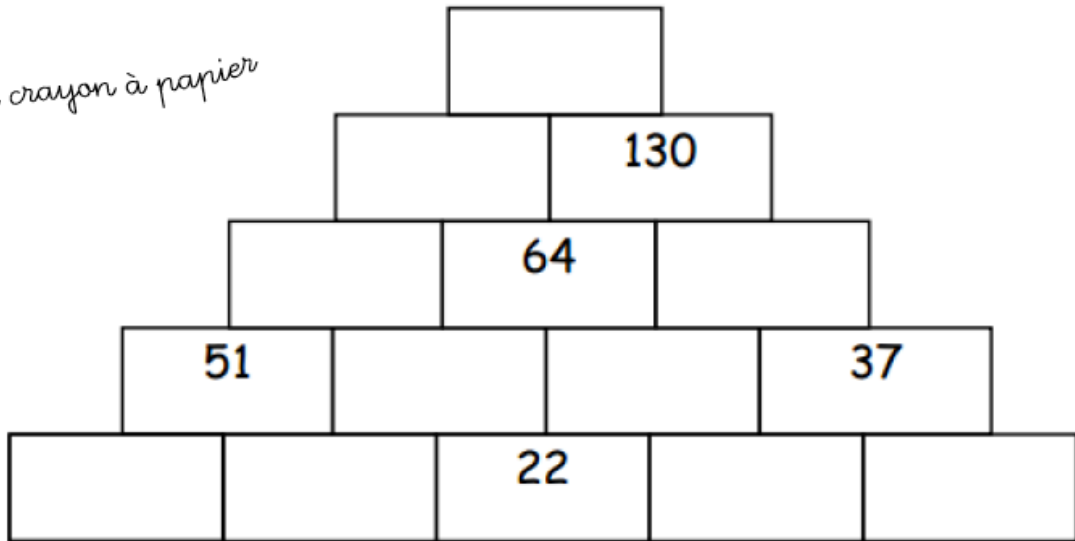
Force 

La pyramide des nombres

Dans cette pyramide de briques, chaque brique vaut la somme des deux briques sur laquelle elle repose.

Compléter les cases avec les nombres qui manquent :

Au crayon à papier



Correction: il fallait commencer par $130 - 64$

La pyramide des nombres

