

Mardi 2 juin

Date en anglais: Tuesday June 2nd

Date en allemand: Dienstag den 2 juni

Dictée

Dictée de 20 mots invariables.

Géométrie

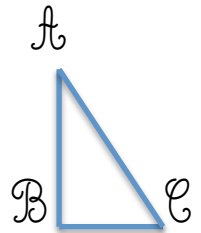
Trace un cercle C de diamètre 9 cm et de centre O , puis trace un rayon OB et une corde BC .

Mesures

Calcule l'aire d'un triangle ABC rectangle en B .

$AB = 6$ cm et $BC = 4$ cm

$(\text{Base} \times \text{hauteur})/2 = (4 \times 6)/2 = 12 \text{ cm}^2$, l'aire du triangle est de 12 cm^2



Anglais

Traduction:

C'est nuageux: It's cloudy.

Décris moi cette personne en 6 phrases comme dans la leçon: To have got



Ahmed

It's a boy.



His name is Ahmed.

He likes chicken.

He doesn't like ice-cream.

He likes bowling.

He has got a fish.



Enigme






Conseil: faites des essais et soyez logique

ENIGME MATHÉMATIQUE












Force >

Quatre formes et quatre motifs

On dispose de 16 jetons.
Il faut les placer dans le tableau pour que chaque ligne, chaque colonne et chaque diagonale comporte les quatre formes (carré, rond, triangle et croix) et les quatre motifs (noir, gris, blanc et rayé).
Cinq formes sont déjà placées.

✂-----



Correction:

Quatre formes et quatre motifs

