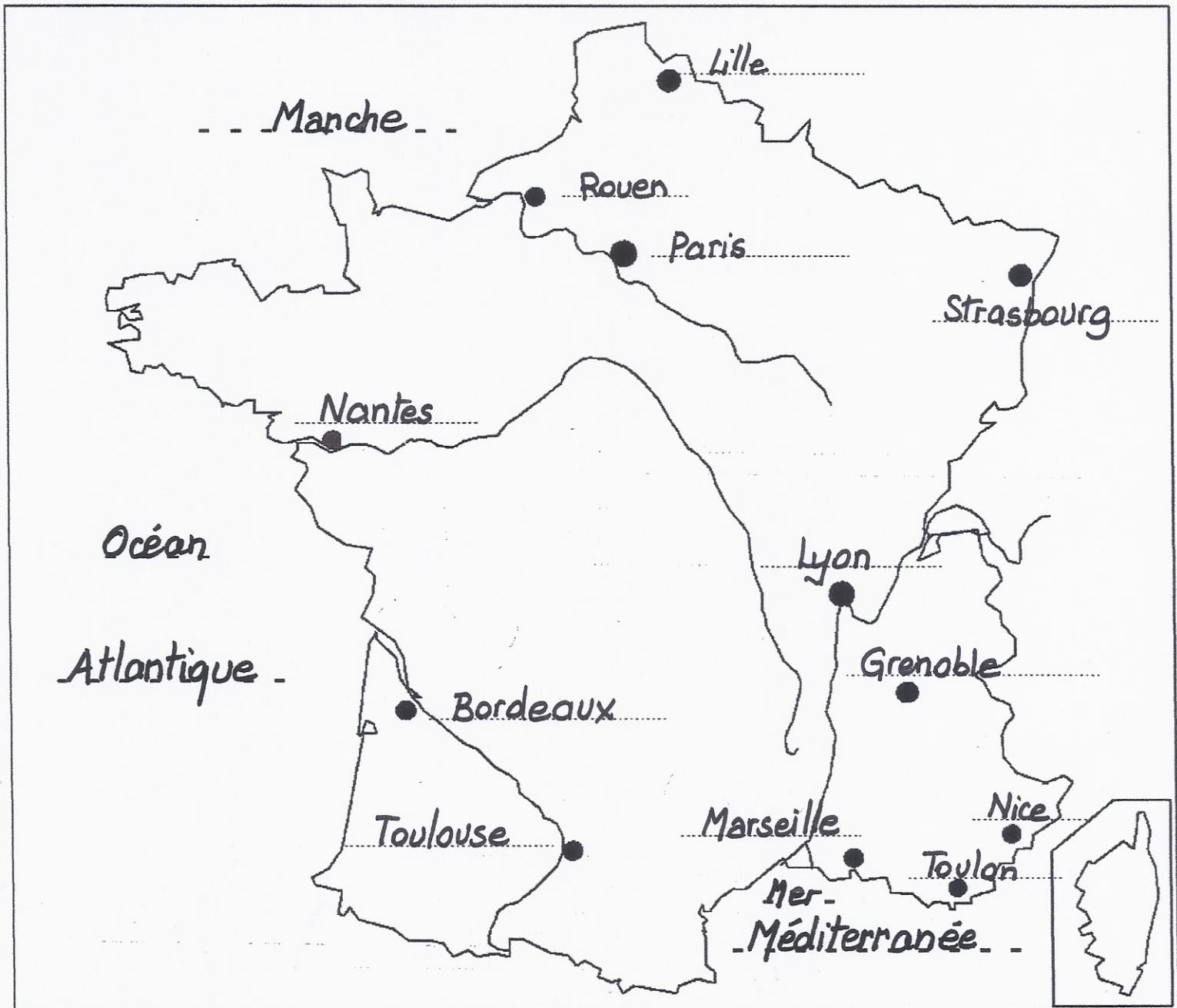


1. Complète cette carte en écrivant le nom des villes



**DOC 2 : Dans le quartier**

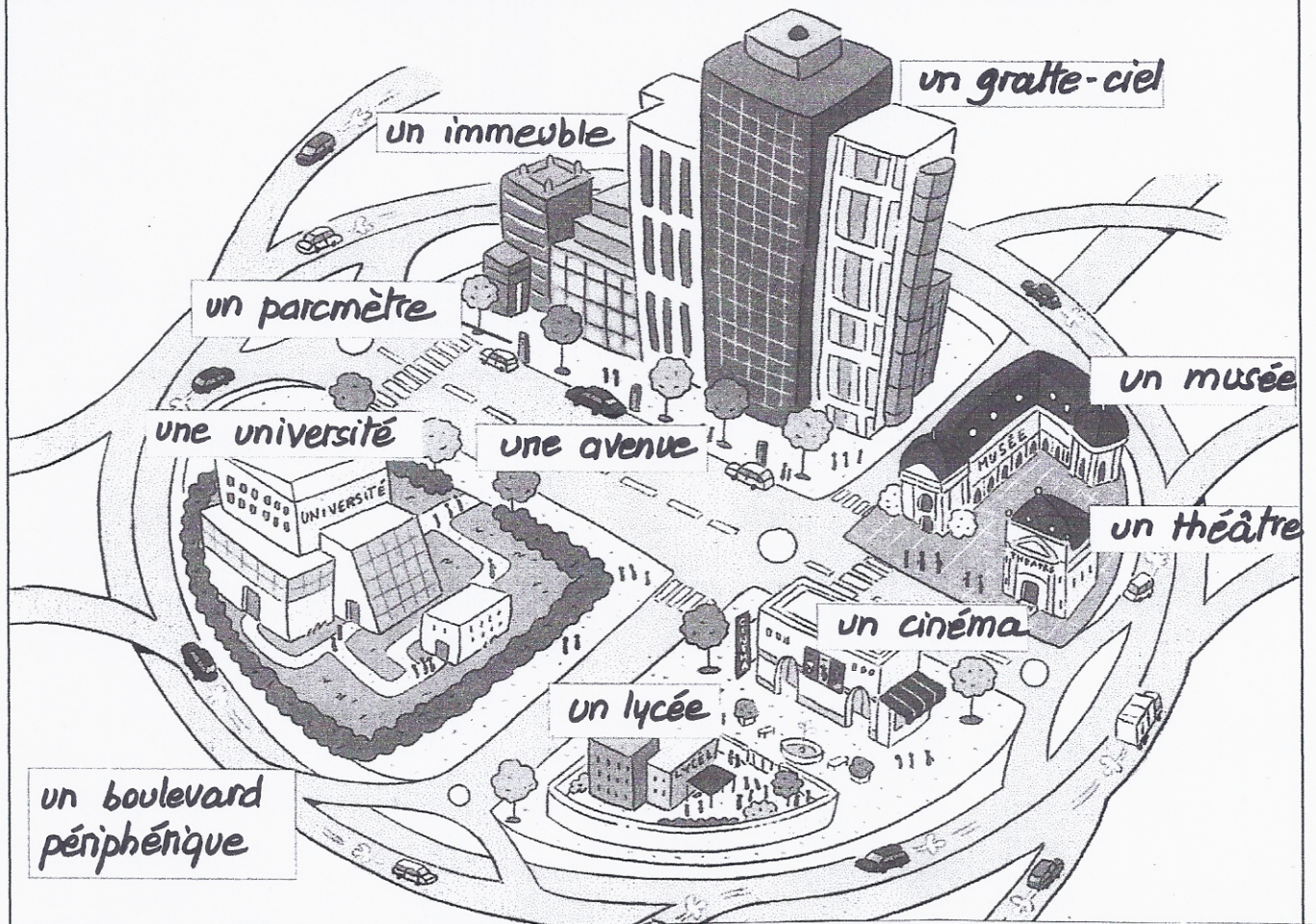
Classe les mots suivants dans le tableau : un stade – une usine – une résidence – la poste – un cinéma – une école – une maison – la piscine – une villa – une boucherie – une banque – un pavillon – un parc – un gymnase – un chalet.

lieu d'habitation	lieu de travail	lieu de loisirs
une résidence	une usine	un stade
une maison	la poste	un cinéma
une villa	une école	la piscine
un pavillon	une boucherie	un parc
un chalet	une banque	un gymnase

DOC 3 : Dans la ville

Place les mots suivants dans les étiquettes :

*un lycée – un boulevard périphérique – un cinéma – un théâtre – un musée – une avenue – une université – un gratte-ciel – un immeuble – un parcimètre.*



Au XIX<sup>e</sup> siècle, on a construit de beaux immeubles en pierre, avec des façades souvent décorées et des balcons en fer forgé.

Au XX<sup>e</sup> siècle, on a construit des bâtiments en briques rouges

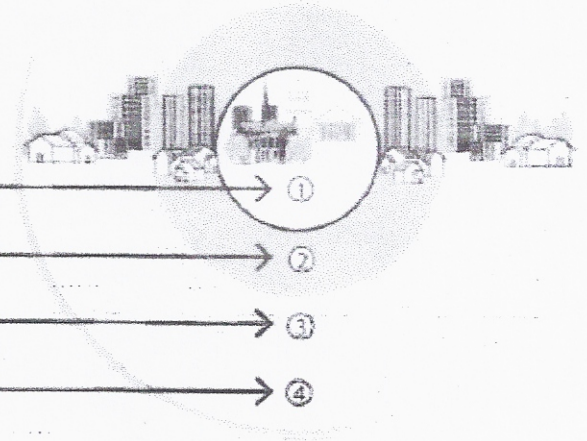
Les immeubles les plus récents ont un toit en terrasse, une façade en béton et sont parfois très hauts.



4. Place les différentes zones au bon endroit sur ce schéma de la ville et de sa banlieue :

bureaux et zone d'activités \*, centre historique, banlieue pavillonnaire, grands ensembles

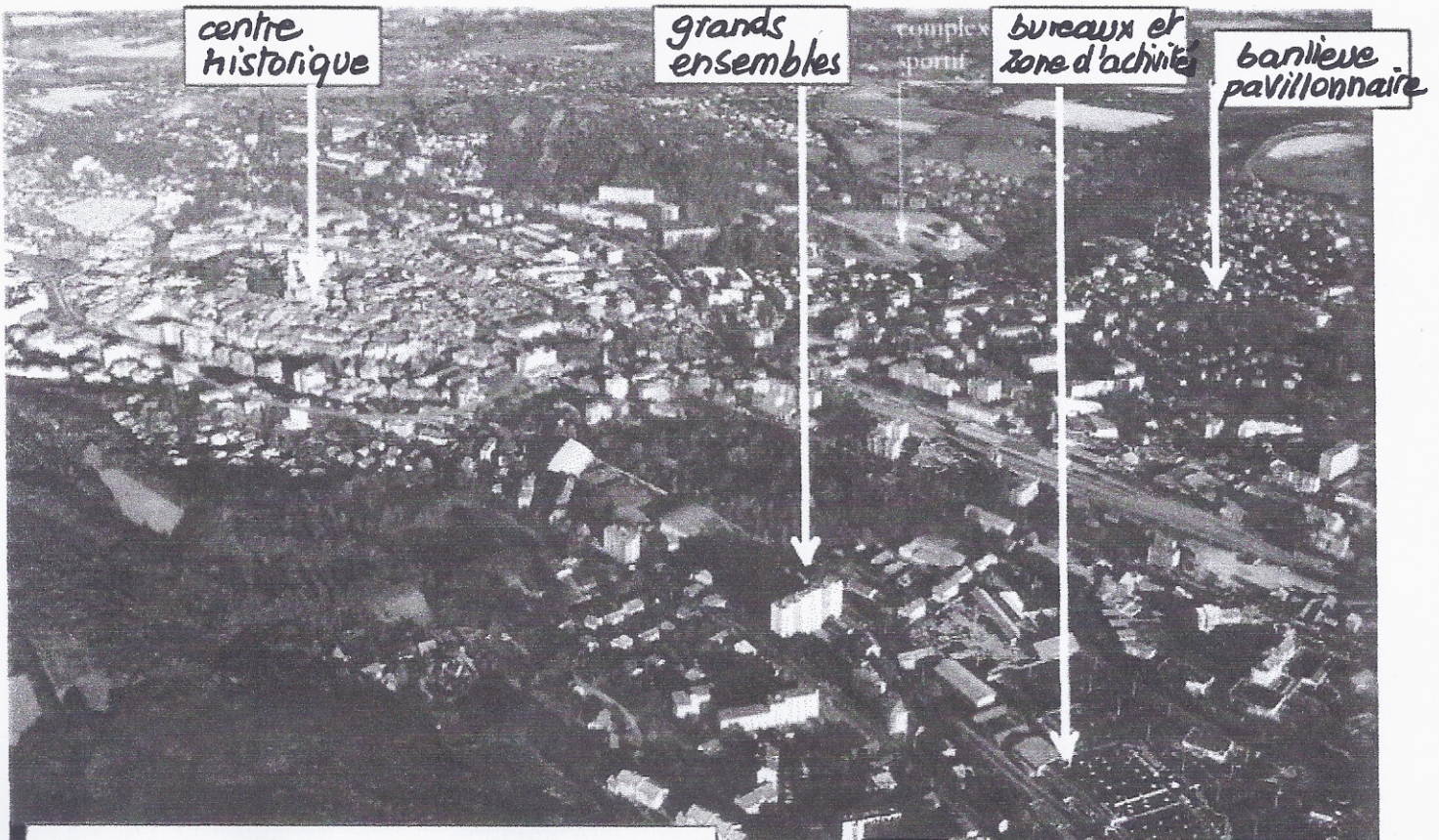
\* entreprises, usines...



centre historique, ancien  
grands ensembles

bureaux et zone d'activités  
banlieue pavillonnaire

Sur cette photo aérienne de la ville de Gap dans le sud-est de la France, place les 4 termes utilisés plus haut.



La ville de Gap et sa périphérie