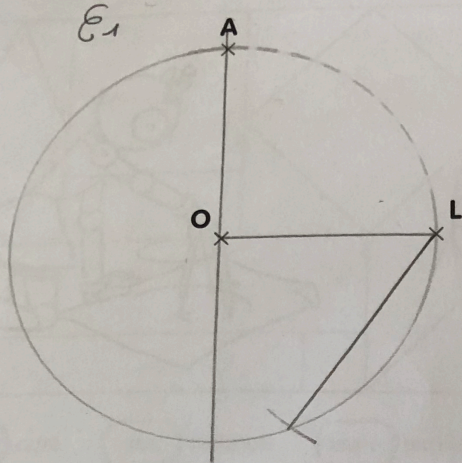




1 Lis les consignes, puis complète la figure.



- Trace un cercle C_1 de centre O et de rayon $[OA]$.
- Trace le diamètre passant par A.
- Trace le rayon $[OL]$.
- Trace ensuite, une corde mesurant 4 cm.
- Repasse en pointillés l'arc entre A et L.



2 Observe, puis reproduis la figure.



Colorie ensuite les zones contenant des points.

