

Mardi 26 mai
Date en anglais:
Date en allemand:

Dictée

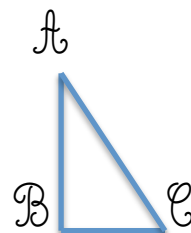
Dictée de 20 mots invariables.

Géométrie

Trace un cercle C de diamètre 10 cm et de centre P , puis trace un rayon FP et une corde AP .

Mesures

Calcule l'aire d'un triangle ABC rectangle en B .
 $AB = 5$ cm et $BC = 3$ cm



Anglais



Traduction:

Il fait froid:

Décris moi cette personne en 6 phrases comme dans la leçon:

Go have got

Adrien



Enigme

Conseil: faites des essais et soyez **logique**

ENIGME MATHÉMATIQUE

Force **3**

La pyramide des nombres

Dans cette pyramide de briques, chaque brique vaut la somme des deux briques sur laquelle elle repose.

Compléter les cases avec les nombres qui manquent :

Au crayon à papier

