

Mardi 28 avril

Date en anglais:

Date en allemand:

Dictée

Dictée de 10 mots invariables.

Géométrie

Trace un triangle **ABC** isocèle en B

$AB=BC=7\text{ cm}$

$AC=4\text{ cm}$

Vocabulaire

Ecris l'homonyme qui convient:

Ce bateau a jeté l'.....

Je n'ai plus d'..... Dans mon stylo.

Anglais


Traduction:

Il fait de l'orage:

Descris moi cette personne en 6 phrases comme dans la leçon:

To have

Adrien



Enigme

Conseil: faites des essais et soyez logique

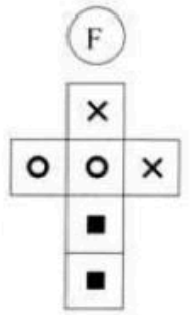
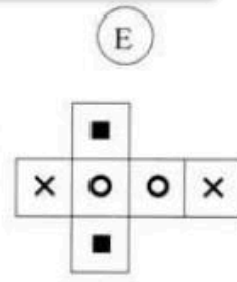
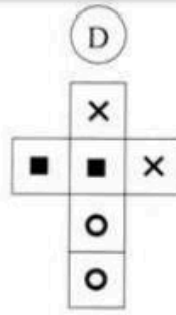
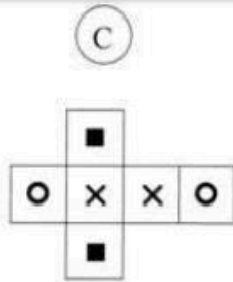
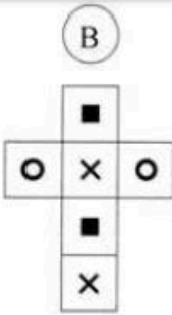
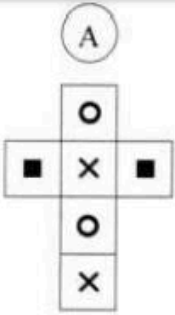
ENIGME MATHÉMATIQUE



Force 2

Cubistes

Retrouve les paires de patrons qui permettent de construire des cubes identiques.



..... et

..... et

..... et